



Series Z1XYW/5

SET~3

प्रश्न-पत्र कोड
Q.P. Code **31/5/3**

रोल नं.

--	--	--	--	--	--	--	--

Roll No.



परीक्षार्थी प्रश्न-पत्र कोड को उत्तर-पुस्तिका के मुख-पृष्ठ पर अवश्य लिखें ।
Candidates must write the Q.P. Code on the title page of the answer-book.

- कृपया जाँच कर लें कि इस प्रश्न-पत्र में मुद्रित पृष्ठ **27** हैं । *
- प्रश्न-पत्र में दाहिने हाथ की ओर दिए गए प्रश्न-पत्र कोड को परीक्षार्थी उत्तर-पुस्तिका के मुख-पृष्ठ पर लिखें ।
- कृपया जाँच कर लें कि इस प्रश्न-पत्र में **39** प्रश्न हैं ।
- कृपया प्रश्न का उत्तर लिखना शुरू करने से पहले, उत्तर-पुस्तिका में प्रश्न का क्रमांक अवश्य लिखें ।
- इस प्रश्न-पत्र को पढ़ने के लिए 15 मिनट का समय दिया गया है । प्रश्न-पत्र का वितरण पूर्वाह्न में 10.15 बजे किया जाएगा । 10.15 बजे से 10.30 बजे तक छात्र केवल प्रश्न-पत्र को पढ़ेंगे और इस अवधि के दौरान वे उत्तर-पुस्तिका पर कोई उत्तर नहीं लिखेंगे ।
- Please check that this question paper contains **27** printed pages.
- Q.P. Code given on the right hand side of the question paper should be written on the title page of the answer-book by the candidate.
- Please check that this question paper contains **39** questions.
- **Please write down the serial number of the question in the answer-book before attempting it.**
- 15 minute time has been allotted to read this question paper. The question paper will be distributed at 10.15 a.m. From 10.15 a.m. to 10.30 a.m., the students will read the question paper only and will not write any answer on the answer-book during this period.

विज्ञान
SCIENCE

निर्धारित समय : 3 घण्टे

अधिकतम अंक : 80

Time allowed : 3 hours

Maximum Marks : 80



सामान्य निर्देश :

निम्नलिखित निर्देशों को बहुत सावधानी से पढ़िए और उनका सख्ती से पालन कीजिए :


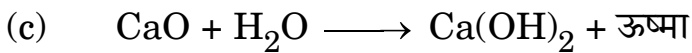
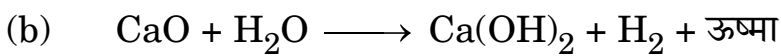
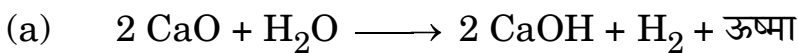
- (i) इस प्रश्न-पत्र में कुल **39** प्रश्न हैं । **सभी** प्रश्न अनिवार्य हैं ।
- (ii) यह प्रश्न-पत्र **पाँच** खण्डों में विभाजित किया गया है – **क, ख, ग, घ एवं ङ** ।
- (iii) **खण्ड क** – प्रश्न संख्या **1** से **20** तक बहुविकल्पीय प्रकार के प्रश्न हैं । प्रत्येक प्रश्न **1** अंक का है ।
- (iv) **खण्ड ख** – प्रश्न संख्या **21** से **26** तक अति लघु-उत्तरीय प्रकार के प्रश्न हैं । प्रत्येक प्रश्न **2** अंकों का है । इन प्रश्नों के उत्तर 30 से 50 शब्दों में दिए जाने चाहिए ।
- (v) **खण्ड ग** – प्रश्न संख्या **27** से **33** तक लघु-उत्तरीय प्रकार के प्रश्न हैं । प्रत्येक प्रश्न **3** अंकों का है । इन प्रश्नों के उत्तर 50 से 80 शब्दों में दिए जाने चाहिए ।
- (vi) **खण्ड घ** – प्रश्न संख्या **34** से **36** तक दीर्घ-उत्तरीय प्रकार के प्रश्न हैं । प्रत्येक प्रश्न **5** अंकों का है । इन प्रश्नों के उत्तर 80 से 120 शब्दों में दिए जाने चाहिए ।
- (vii) **खण्ड ङ** – प्रश्न संख्या **37** से **39** तक 3 स्रोत-आधारित/केस-आधारित इकाइयों के मूल्यांकन के चार-चार अंकों के प्रश्न (उप-प्रश्नों सहित) हैं ।
- (viii) प्रश्न-पत्र में समग्र विकल्प नहीं दिया गया है । यद्यपि, कुछ खण्डों में आंतरिक विकल्प दिए गए हैं । इस प्रकार के प्रश्नों में केवल एक ही विकल्प का उत्तर दीजिए ।

खण्ड क

इस खण्ड में **20** बहुविकल्पीय प्रश्न (प्र. सं. 1 – 20) हैं । **सभी** प्रश्न अनिवार्य हैं ।

20×1=20

1. बिना बुझे चूने और पानी के बीच अभिक्रिया का संतुलित रासायनिक समीकरण कौन-सा है ?





General Instructions :

Read the following instructions very carefully and strictly follow them :

- (i) This question paper comprises **39** questions. **All** questions are compulsory.
- (ii) This question paper is divided into **five** sections – **A, B, C, D** and **E**.
- (iii) **Section A** – Questions No. **1** to **20** are multiple choice questions. Each question carries **1** mark.
- (iv) **Section B** – Questions No. **21** to **26** are very short answer type questions. Each question carries **2** marks. Answer to these questions should be in the range of **30 to 50** words.
- (v) **Section C** – Questions No. **27** to **33** are short answer type questions. Each question carries **3** marks. Answer to these questions should be in the range of **50 to 80** words.
- (vi) **Section D** – Questions No. **34** to **36** are long answer type questions. Each question carries **5** marks. Answer to these questions should be in the range of **80 to 120** words.
- (vii) **Section E** – Questions No. **37** to **39** are of **3** source-based/case-based units of assessment carrying **4** marks each with sub-parts.
- (viii) There is no overall choice. However, an internal choice has been provided in some sections. Only one of the alternatives has to be attempted in such questions.

SECTION A

This section has **20** multiple choice questions (Q.No. 1 – 20). **All** questions are **compulsory**. $20 \times 1 = 20$

1. The balanced chemical equation showing reaction between quicklime and water is :
 - (a) $2 \text{CaO} + \text{H}_2\text{O} \longrightarrow 2 \text{CaOH} + \text{H}_2 + \text{Heat}$
 - (b) $\text{CaO} + \text{H}_2\text{O} \longrightarrow \text{Ca(OH)}_2 + \text{H}_2 + \text{Heat}$
 - (c) $\text{CaO} + \text{H}_2\text{O} \longrightarrow \text{Ca(OH)}_2 + \text{Heat}$
 - (d) $2 \text{CaO} + 3 \text{H}_2\text{O} \longrightarrow 2 \text{Ca(OH)}_3 + \text{O}_2 + \text{Heat}$



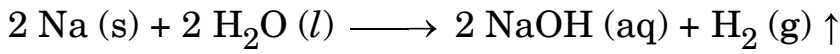
2. निम्नलिखित में से गंधीय सूचकों का युग्म (जोड़ा) चुनिए :

- (a) लौंग का तेल और वैनिला सुगंध
- (b) प्याज़ और हल्दी
- (c) लौंग का तेल और लिटमस विलयन
- (d) वैनिला और मेथिल ऑरैन्ज

3. ताज़े दूध का pH 6 होता है । इसके जमने में देरी करने के लिए इसमें कौन-सा रासायनिक पदार्थ मिलाया जाता है ?

- (a) सोडियम कार्बोनेट
- (b) बेकिंग पाउडर
- (c) सोडियम हाइड्रॉक्साइड (कॉस्टिक सोडा)
- (d) बेकिंग सोडा (सोडियम हाइड्रोजन कार्बोनेट)

4. निम्नलिखित रासायनिक अभिक्रिया का अध्ययन कीजिए :



इस अभिक्रिया में अपचायक है :

- (a) Na
- (b) H₂O
- (c) NaOH
- (d) H₂

5. निम्नलिखित में से किसके बीच अभिक्रिया होने पर हाइड्रोनियम आयन बनते हैं ?

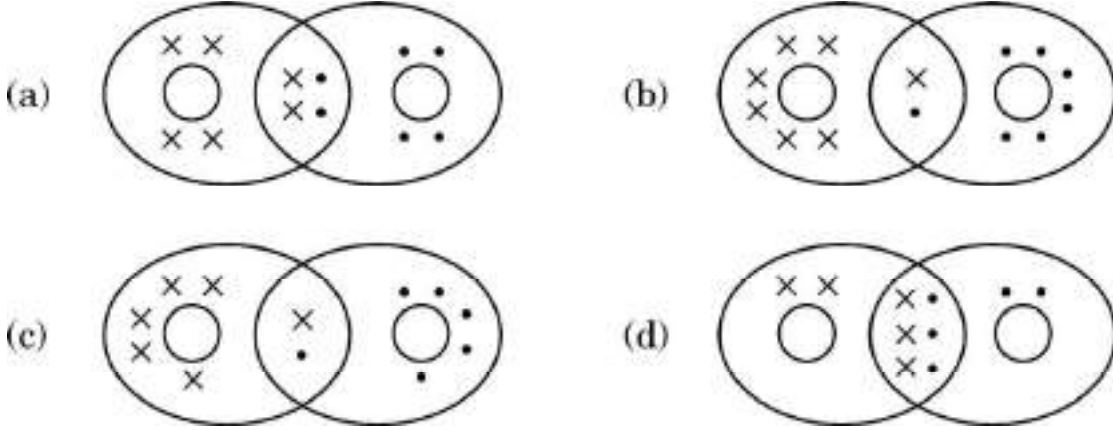
- (a) सोडियम हाइड्रॉक्साइड और पानी
- (b) कैल्सियम क्लोराइड और पानी
- (c) हाइड्रोजन क्लोराइड गैस और पानी
- (d) एथेनॉल और पानी



2. Select a pair of olfactory indicators from the following :
- (a) Clove oil and vanilla essence
 - (b) Onion and turmeric
 - (c) Clove oil and litmus solution
 - (d) Vanilla and methyl orange
3. Fresh milk has a pH of 6. To delay its curdling, a chemical substance is added to it, which is :
- (a) Sodium carbonate
 - (b) Baking powder
 - (c) Sodium hydroxide (Caustic soda)
 - (d) Baking soda (Sodium hydrogen carbonate)
4. Study the following chemical reaction :
- $$2 \text{Na (s)} + 2 \text{H}_2\text{O (l)} \longrightarrow 2 \text{NaOH (aq)} + \text{H}_2 \text{(g)} \uparrow$$
- The reducing agent in this reaction is :
- (a) Na
 - (b) H₂O
 - (c) NaOH
 - (d) H₂
5. Hydronium ions are formed by the reaction between :
- (a) Sodium hydroxide and water
 - (b) Calcium chloride and water
 - (c) Hydrogen chloride gas and water
 - (d) Ethanol and water



6. ऑक्सीजन अणु में सहसंयोजक आबन्धन का सही निरूपण किस विकल्प में दर्शाया गया है ?



7. किसी उभयधर्मी ऑक्साइड के लिए निम्नलिखित में से कौन-सा कथन सही है ?

- (a) यह केवल अम्ल से अभिक्रिया करता है और पानी नहीं बनाता है ।
(b) यह अम्ल और क्षारक दोनों से अभिक्रिया करके लवण और हाइड्रोजन गैस बनाता है ।
(c) यह अम्ल और क्षारक दोनों से अभिक्रिया करके लवण और पानी बनाता है ।
(d) यह केवल क्षारक से अभिक्रिया करता है और पानी नहीं बनाता है ।

8. स्थलीय जीवों की तुलना में जलीय जीवों की श्वास लेने की दर :

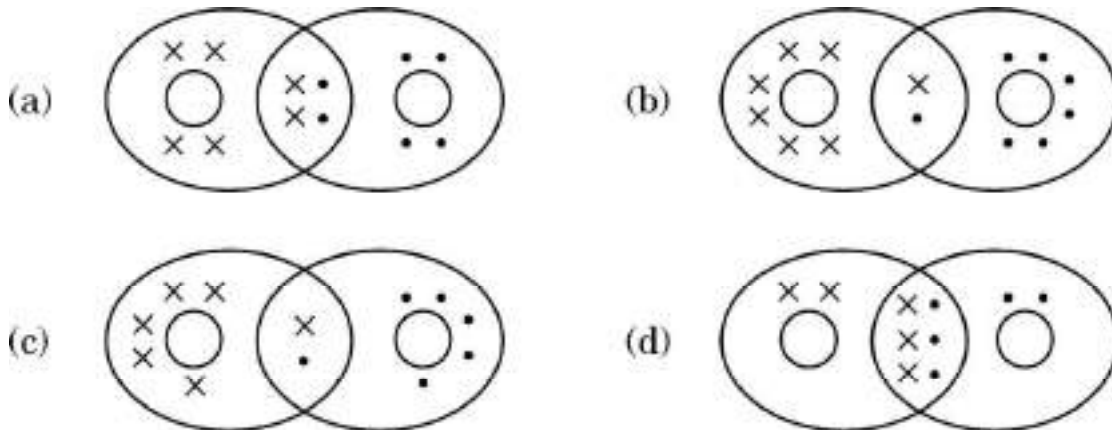
- (a) तीव्र होती है क्योंकि उन्हें जीवित रहने के लिए अधिक ऑक्सीजन चाहिए ।
(b) तीव्र होती है क्योंकि जल में घुली ऑक्सीजन की मात्रा काफी कम होती है ।
(c) कम होती है क्योंकि जल में घुली ऑक्सीजन की मात्रा काफी कम होती है ।
(d) कम होती है क्योंकि जल की वायुमंडलीय वायु को घोलने की क्षमता कम है ।

9. किसी पादप के वायव भागों (aerial parts) से जल वाष्प के रूप में जल की हानि होने की प्रक्रिया को X कहते हैं और यह Y में सहायता करती है । यहाँ X और Y क्रमशः हैं :

- (a) वाष्पोत्सर्जन और प्रकाश-संश्लेषण ।
(b) वाष्पोत्सर्जन और ताप नियमन (नियंत्रण) ।
(c) स्थानान्तरण और प्रकाश-संश्लेषण के विलेय उत्पादों की फ्लोएम में गति ।
(d) स्थानान्तरण और जड़ों द्वारा मृदा से जल और खनिजों का अवशोषण ।



6. The correct representation of covalent bonding in an oxygen molecule is :



7. Which of the following statements is true for an amphoteric oxide ?

- (a) It reacts only with acid and does not form water.
- (b) It reacts with acid as well as base to form salt and hydrogen gas.
- (c) It reacts with both acid as well as base to form salt and water.
- (d) It reacts only with base and does not form water.

8. As compared to terrestrial organisms, the rate of breathing in aquatic organisms is :

- (a) faster because they need more oxygen for their survival.
- (b) faster because the amount of dissolved oxygen in water is fairly low.
- (c) slower because the amount of dissolved oxygen in water is fairly low.
- (d) slower because the capacity of water of dissolving atmospheric air is limited.

9. The process in which loss of water in the form of vapours from the aerial parts of plants takes place is X , which helps in Y . Here X and Y respectively are :

- (a) transpiration and photosynthesis.
- (b) transpiration and temperature regulation.
- (c) translocation and movement of soluble products of photosynthesis in phloem.
- (d) translocation and absorption of water and minerals from soil by roots.



10. असुरक्षित यौन क्रिया के कारण हो सकने वाले जीवाणु जनित और वाइरस संक्रमित रोग क्रमशः हैं :

- (a) मस्सा तथा HIV-AIDS
- (b) HIV-AIDS तथा मस्सा
- (c) गोनोरिया तथा सिफलिस
- (d) सिफलिस तथा मस्सा

11. हमारे शरीर का वह अंग जिसमें रससंवेदी ग्राहियाँ उपस्थित होती हैं, कौन-सा है ?

- (a) आन्तरिक कर्ण
- (b) त्वचा
- (c) जिह्वा
- (d) नाक का आन्तरिक आस्तर

12. निम्नलिखित दो कथनों पर विचार कीजिए :

- (i) वह लक्षण जो स्वयं ही F_1 पीढ़ी में व्यक्त होता है ।
- (ii) वह लक्षण जो एक पीढ़ी से दूसरी पीढ़ी में जाता रहता है ।

इन कथनों (i) और (ii) के लिए उपयुक्त पद क्रमशः हैं :

- (a) अप्रभावी लक्षण, प्रभावी लक्षण
- (b) प्रभावी लक्षण, अप्रभावी लक्षण
- (c) प्रभावी लक्षण, आनुवंशिक लक्षण
- (d) अप्रभावी लक्षण, आनुवंशिक लक्षण



10. The bacterial and the viral infections that may be caused due to unsafe sex respectively are :

- (a) Warts and HIV-AIDS
- (b) HIV-AIDS and Warts
- (c) Gonorrhoea and Syphilis
- (d) Syphilis and Warts

11. The part in which gustatory receptors are present in our body is :

- (a) inner ear
- (b) skin
- (c) tongue
- (d) inner lining of nose

12. Consider the following two statements :

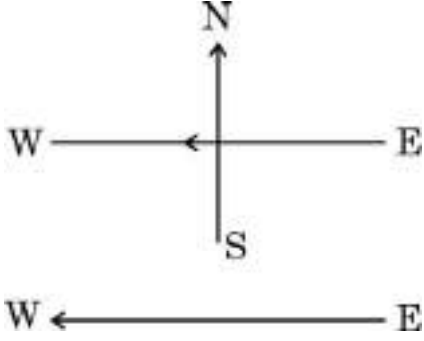
- (i) The trait that expresses itself in F_1 generation.
- (ii) The trait that keeps on passing from one generation to another.

The appropriate terms for the statements (i) and (ii) respectively are :

- (a) Recessive trait, Dominant trait
- (b) Dominant trait, Recessive trait
- (c) Dominant trait, Inherited trait
- (d) Recessive trait, Inherited trait



13. आरेख में दर्शाए अनुसार कागज़ के तल में किसी क्षैतिज तार से पूर्व से पश्चिम की ओर नियत धारा प्रवाहित हो रही है। किस बिन्दु पर चुम्बकीय क्षेत्र की दिशा उत्तर से दक्षिण की ओर होगी ?

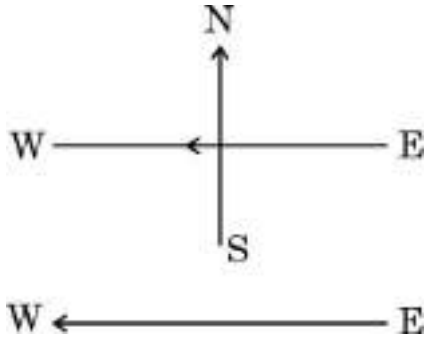


- (a) तार के ठीक ऊपर
(b) तार के ठीक नीचे
(c) कागज़ के तल में तार के उत्तर की ओर
(d) कागज़ के तल में तार के दक्षिण की ओर
14. (i) Q , I और t तथा (ii) Q , V और W के बीच संबंधों के लिए क्रमशः व्यंजक हैं (यहाँ पर प्रतीकों के सामान्य अर्थ हैं) :

- (a) (i) $I = \frac{Q}{t}$ (ii) $W = \frac{V}{Q}$
(b) (i) $Q = I \times t$ (ii) $W = V \times Q$
(c) (i) $Q = \frac{I}{t}$ (ii) $V = \frac{W}{Q}$
(d) (i) $I = \frac{Q}{t}$ (ii) $Q = \frac{V}{W}$



13. A constant current flows in a horizontal wire in the plane of the paper from east to west as shown in the figure. The direction of the magnetic field will be north to south at a point :



- (a) directly above the wire.
(b) directly below the wire.
(c) located in the plane of the paper on the north side of the wire.
(d) located in the plane of the paper on the south side of the wire.
14. The expressions that relate (i) Q , I and t and (ii) Q , V and W respectively are (Here the symbols have their usual meanings) :

- (a) (i) $I = \frac{Q}{t}$ (ii) $W = \frac{V}{Q}$
(b) (i) $Q = I \times t$ (ii) $W = V \times Q$
(c) (i) $Q = \frac{I}{t}$ (ii) $V = \frac{W}{Q}$
(d) (i) $I = \frac{Q}{t}$ (ii) $Q = \frac{V}{W}$



15. किसी लंबी सीधी परिनालिका में विद्युत धारा प्रवाहित कराकर इसके दोनों सिरों पर N और S ध्रुव उत्पन्न किए गए हैं। निम्नलिखित में से कौन-सा कथन **ग़लत** है ?

- (a) परिनालिका के भीतर चुम्बकीय क्षेत्र रेखाएँ सरल रेखाओं के रूप में हैं जो यह इंगित करता है कि परिनालिका के भीतर सभी बिन्दुओं पर चुम्बकीय क्षेत्र एकसमान है।
- (b) परिनालिका के भीतर उत्पन्न प्रबल चुम्बकीय क्षेत्र परिनालिका के भीतर रखे नर्म लोहे को चुम्बकित कर सकता है।
- (c) धारावाही परिनालिका के चुम्बकीय क्षेत्र का पैटर्न छड़ चुम्बक के चुम्बकीय क्षेत्र के पैटर्न से भिन्न होता है।
- (d) परिनालिका से प्रवाहित धारा को उत्क्रमित करने पर N और S ध्रुवों की स्थितियाँ अदला-बदली हो जाती हैं।

16. कोई विद्युत केतली 220 V पर प्रचालित किए जाने पर 1 kW विद्युत शक्ति उपभुक्त करती है। इसके लिए फ्यूज़ तार का निम्नतम अनुमतांक क्या होना चाहिए ?

- (a) 1 A
- (b) 2 A
- (c) 4 A
- (d) 5 A

प्रश्न संख्या 17 से 20 के लिए, दो कथन दिए गए हैं — जिनमें एक को अभिकथन (A) तथा दूसरे को कारण (R) द्वारा अंकित किया गया है। इन प्रश्नों के सही उत्तर नीचे दिए गए कोडों (a), (b), (c) और (d) में से चुनकर दीजिए।

- (a) अभिकथन (A) और कारण (R) दोनों सही हैं और कारण (R), अभिकथन (A) की सही व्याख्या करता है।
- (b) अभिकथन (A) और कारण (R) दोनों सही हैं, परन्तु कारण (R), अभिकथन (A) की सही व्याख्या **नहीं** करता है।
- (c) अभिकथन (A) सही है, परन्तु कारण (R) ग़लत है।
- (d) अभिकथन (A) ग़लत है, परन्तु कारण (R) सही है।



15. For a current in a long straight solenoid, N and S poles are created at the two ends. Among the following statements, the **incorrect** statement is :
- (a) The magnetic field lines inside the solenoid are in the form of straight lines, which indicates that the magnetic field is uniform at all points inside the solenoid.
 - (b) The strong magnetic field produced inside the solenoid can magnetize the soft iron placed inside it.
 - (c) The pattern of the magnetic field associated with a current carrying solenoid is different from the pattern of the magnetic field around a bar magnet.
 - (d) The N and S poles exchange positions when the direction of current through the solenoid is reversed.
16. An electric kettle consumes 1 kW of electric power when operated at 220 V. The minimum rating of the fuse wire to be used for it is
- (a) 1 A
 - (b) 2 A
 - (c) 4 A
 - (d) 5 A

For questions number 17 to 20, two statements are given — one labelled as Assertion (A) and the other labelled as Reason (R). Select the correct answer to these questions from the codes (a), (b), (c) and (d) as given below :

- (a) Both Assertion (A) and Reason (R) are true and Reason (R) is the correct explanation of the Assertion (A).
- (b) Both Assertion (A) and Reason (R) are true, but Reason (R) is **not** the correct explanation of the Assertion (A).
- (c) Assertion (A) is true, but Reason (R) is false.
- (d) Assertion (A) is false, but Reason (R) is true.



17. **अभिकथन (A) :** मानव व्यष्टियाँ लक्षणों में अत्यधिक विभिन्नताएँ दर्शाती हैं ।
कारण (R) : किसी स्पीशीज़ में सभी विभिन्नताओं के लिए जिस पर्यावरण में वह रहती हैं उसी में उनकी उत्तरजीविता के समान अवसर होते हैं ।
18. **अभिकथन (A) :** निम्नलिखित रासायनिक अभिक्रिया
$$\text{ZnO} + \text{C} \longrightarrow \text{Zn} + \text{CO}$$
में ZnO का अपचयन होता है ।
कारण (R) : कार्बन अपचायक है जो ZnO को Zn में अपचयित कर देता है ।
19. **अभिकथन (A) :** किसी धारावाही सीधे तार के चारों ओर की चुम्बकीय क्षेत्र रेखाएँ एक-दूसरे का प्रतिच्छेदन नहीं करती हैं ।
कारण (R) : तार में प्रवाहित धारा के परिमाण में वृद्धि करने पर किसी बिन्दु पर उत्पन्न चुम्बकीय क्षेत्र के परिमाण में वृद्धि हो जाती है ।
20. **अभिकथन (A) :** अलिन्द की भित्तियाँ निलय की भित्तियों की अपेक्षा मोटी होती हैं ।
कारण (R) : निलय को रुधिर को पम्प करके उच्च दाब पर विभिन्न अंगों में पहुँचाना होता है ।

खण्ड ख

21. (क) मानवों में मस्तिष्क और मेरुरज्जू किस प्रकार सुरक्षित रहते हैं ?
(ख) (i) मेडुला और (ii) अनुमस्तिष्क प्रत्येक का एक-एक कार्य लिखिए । 2
22. (क) 'X' को 373 K पर गर्म करने पर वह जल अणुओं को खोकर 'Y' में परिवर्तित हो जाता है । 'Y' ऐसा पदार्थ है जिसका उपयोग डॉक्टर टूटी हड्डियों को सही जगह पर स्थिर रखने के लिए करते हैं ।
(i) 'X' और 'Y' को पहचानिए ।
(ii) 'X' को 'Y' से किस प्रकार पुनः प्राप्त किया जा सकता है ? 2

अथवा



17. *Assertion (A)* : Human populations show a great deal of variations in traits.
Reason (R) : All variations in a species have equal chances of surviving in the environment in which they live.
18. *Assertion (A)* : In the following reaction
$$\text{ZnO} + \text{C} \longrightarrow \text{Zn} + \text{CO}$$

ZnO undergoes reduction.
Reason (R) : Carbon is a reducing agent that reduces ZnO to Zn.
19. *Assertion (A)*: The magnetic field lines around a current carrying straight wire do not intersect each other.
Reason (R): The magnitude of the magnetic field produced at a given point increases as the current through the wire increases.
20. *Assertion (A)* : The walls of atria are thicker than those of the ventricles.
Reason (R): Ventricles have to pump blood into various organs at high pressure.

SECTION B

21. (a) How is the brain and spinal cord protected in human beings ?
(b) State one main function each of (i) Medulla and (ii) Cerebellum. 2
22. (a) On heating 'X' at 373 K, it loses water molecules and becomes 'Y'. 'Y' is a substance which doctors use for supporting fractured bones in the right position.
(i) Identify 'X' and 'Y'.
(ii) How can 'X' be reobtained from 'Y' ? 2

OR



- (ख) दो विलयन M और N सार्वत्रिक सूचक के साथ क्रमशः लाल और नीला रंग देते हैं ।
- (i) इनमें से किस विलयन में हाइड्रोजन आयनों की सांद्रता अधिक है ? अपने उत्तर की पुष्टि कीजिए ।
- (ii) यदि दोनों विलयनों M और N को मिला दिया जाए और परिणामी मिश्रण का सार्वत्रिक सूचक द्वारा परीक्षण किया जाए, तो वह हरा हो जाता है । बनने वाले लवण की प्रकृति क्या है ? अपने उत्तर की पुष्टि कीजिए ।

23. क्या होगा यदि :

- (क) किसी पादप में ज़ाइलम ऊतक को हटा दिया जाए ?
- (ख) हम क्षतिग्रस्त हो जाएँ और रुधिर स्राव आरम्भ हो जाए ?

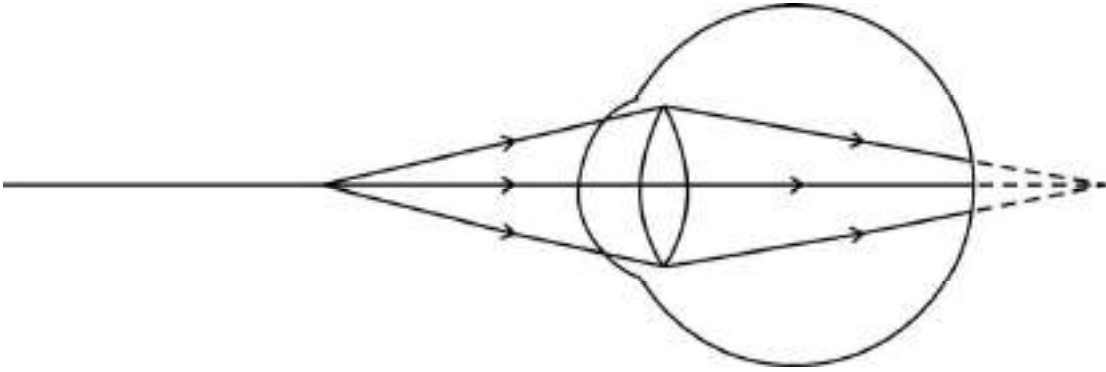
24. (क) प्रकाश-संश्लेषण की प्रक्रिया के समय होने वाली घटनाओं की उचित क्रम में सूची बनाइए ।

अथवा

- (ख) किसी पादप की पत्तियों द्वारा उत्सर्जन के लिए अपनाई जाने वाली दो विधियों की संक्षेप में व्याख्या कीजिए ।

25. जैवनिम्नीकरणीय और अजैवनिम्नीकरणीय पदार्थों के बीच क्या अन्तर है ? घरेलू जैवनिम्नीकरणीय अपशिष्टों के सुरक्षित निपटारे की दो विधियों की सूची बनाइए ।

26. किसी नेत्र में प्रतिबिम्ब बनना दर्शाने वाले निम्नलिखित आरेख का प्रेक्षण कीजिए :



- (क) इस आरेख में दर्शाए गए दृष्टि दोष को पहचानिए ।
- (ख) इस दोष के दो कारणों की सूची बनाइए तथा दोष के संशोधन के लिए उपयुक्त लेंस सुझाइए ।

खण्ड ग

27. (क) (i) सल्फ्यूरिक अम्ल और (ii) सोडियम हाइड्रॉक्साइड के तनु विलयनों में जिंक के किसी टुकड़े को डुबाने पर होने वाली अभिक्रियाओं को दर्शाने के लिए रासायनिक समीकरण लिखिए ।



- (b) Two solutions M and N give Red and Blue colour respectively with a universal indicator.
- (i) In which solution will the hydrogen ion concentration be more ? Justify your answer.
- (ii) If both M and N solutions are mixed and the resultant mixture is tested with a universal indicator, it turns green. What is the nature of the salt formed ? Justify your answer. 2

23. What will happen if :

- (a) Xylem tissue in a plant is removed ?
- (b) We are injured and start bleeding ? 2

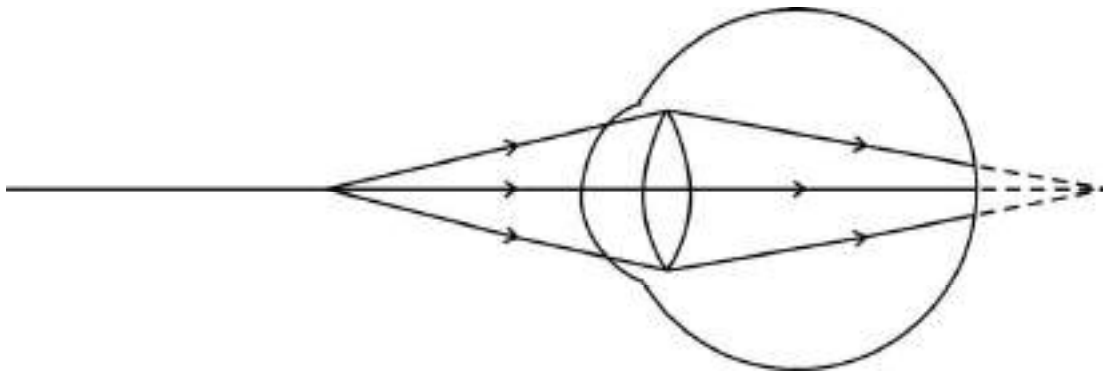
24. (a) List the events in proper sequence that take place during the process of photosynthesis. 2

OR

- (b) Explain in brief two ways by which leaves of a plant help in excretion. 2

25. What is the difference between biodegradable and non-biodegradable substances ? List two methods of safe disposal of biodegradable domestic waste. 2

26. Observe the following diagram showing an image formation in an eye :



- (a) Identify the defect of vision shown in the figure.
- (b) List its two causes and suggest a suitable corrective lens to overcome this defect. 2

SECTION C

27. (a) Write a balanced equation to show the reaction that occurs when a piece of aluminium is dipped in a dilute solution of (i) sulphuric acid and (ii) sodium hydroxide.



- (ख) जब कॉपर ऑक्साइड की हाइड्रोक्लोरिक अम्ल से अभिक्रिया होती है, तो बनने वाले विलयन के रंग का उल्लेख कीजिए। इस प्रेक्षण का कारण दीजिए। 3
28. (क) द्विविस्थापन अभिक्रिया की परिभाषा दीजिए।
(ख) किसी ऐसी द्विविस्थापन अभिक्रिया का रासायनिक समीकरण लिखिए जो (i) उदासीनीकरण अभिक्रिया और (ii) अवक्षेपण अभिक्रिया भी हो। अपने उत्तर की पुष्टि दीजिए। 3
29. (क) किसी छात्र ने 12 cm फोकस दूरी के किसी अवतल दर्पण का उपयोग करके 3 cm ऊँचाई के किसी बिम्ब के प्रतिबिम्ब को श्वेत पर्दे पर फोकसित किया है। यदि बिम्ब की दर्पण से दूरी 18 cm है, तो निम्नलिखित के मान ज्ञात कीजिए :
(i) दर्पण से प्रतिबिम्ब की दूरी
(ii) प्रतिबिम्ब की ऊँचाई 3
- अथवा**
- (ख) लेंस की क्षमता की परिभाषा लिखिए। किसी लेंस की फोकस दूरी -10 cm है। इस लेंस की प्रकृति लिखिए और इसकी क्षमता ज्ञात कीजिए। यदि किसी बिम्ब को इस लेंस के प्रकाशिक केन्द्र से 20 cm की दूरी पर रखा जाए, तो नयी कार्तीय चिह्न परिपाटी के अनुसार इस प्रकरण में आवर्धन का चिह्न क्या होगा ? 3
30. (क) किसी क्रियाकलाप की सहायता से जिस भोजन को हम खाते हैं उस पर लालारस (लार) की क्रिया की व्याख्या कीजिए।
(ख) पाचन की प्रक्रिया में पित्त रस महत्वपूर्ण क्यों है ? 3
31. (क) (i) कोई सीधा बेलनाकार चालक किसी नाल चुम्बक के चुम्बकीय क्षेत्र में अपने अक्ष को क्षेत्र के लम्बवत् रखते हुए निलंबित है। जब इस चालक से कोई धारा प्रवाहित होती है तो यह बायीं ओर विस्थापित हो जाता है। इस चालक के विस्थापन पर क्या प्रभाव होगा यदि
(1) चालक से प्रवाहित धारा में वृद्धि कर दी जाए ?
(2) नाल चुम्बक के स्थान पर कोई अन्य इससे प्रबल नाल चुम्बक रख दिया जाए ?
(3) चालक से प्रवाहित धारा की दिशा उत्क्रमित कर दी जाए ?
(ii) किसी चुम्बकीय क्षेत्र में रखे किसी धारावाही चालक पर लगने वाले बल की दिशा को निर्धारित करने वाले नियम का नाम लिखिए और इस नियम का उल्लेख कीजिए। 3

अथवा



- (b) Write the colour of the solution formed when copper oxide is treated with hydrochloric acid. Give reason for this observation. 3
- 28.** (a) Define a double displacement reaction.
(b) Write the chemical equation of a double displacement reaction which is also a (i) Neutralization reaction and (ii) Precipitation reaction. Give justification for your answer. 3
- 29.** (a) A student has focussed the image of an object of height 3 cm on a white screen using a concave mirror of focal length 12 cm. If the distance of the object from the mirror is 18 cm, find the values of the following :
(i) Distance of the image from the mirror
(ii) Height of the image 3
- OR**
- (b) Define power of a lens. The focal length of a lens is -10 cm. Write the nature of the lens and find its power. If an object is placed at a distance of 20 cm from the optical centre of this lens, according to the New Cartesian Sign Convention, what will be the sign of magnification in this case ? 3
- 30.** (a) With the help of an activity, explain the action of saliva on the food we eat.
(b) Why is bile juice important in the process of digestion ? 3
- 31.** (a) (i) A straight cylindrical conductor is suspended with its axis perpendicular to the magnetic field of a horse-shoe magnet. The conductor gets displaced towards left when a current is passed through it. What will happen to the displacement of the conductor if the
(1) current through it is increased ?
(2) horse-shoe magnet is replaced by another stronger horse-shoe magnet ?
(3) direction of current through it is reversed ?
(ii) Name and state the rule for determining the direction of force on a current carrying conductor in a magnetic field. 3

OR



(ख) किसी क्षैतिज कार्डबोर्ड से ऊर्ध्वाधरतः गुजरते किसी धारावाही सीधे चालक द्वारा उत्पन्न चुम्बकीय क्षेत्र का पैटर्न खींचिए। इसमें प्रवाहित धारा की दिशा और चुम्बकीय क्षेत्र रेखाओं की दिशा अंकित कीजिए। किसी धारावाही चालक से संबद्ध चुम्बकीय क्षेत्र की दिशा को निर्धारित करने के लिए उपयोग किए जाने वाले नियम का नाम और उस नियम का उल्लेख कीजिए।

3

32. वायुमंडल के उच्चतर स्तरों पर ओज़ोन किस प्रकार बनती है? “ओज़ोन स्तर की क्षति चिन्ता का कारण है।” इस कथन की पुष्टि कीजिए।

3

33. (i) श्वेत प्रकाश पुंज के विक्षेपण और (ii) इंद्रधनुष के बनने को दर्शाने के लिए एक नामांकित आरेख बनाइए।

3

खण्ड घ

34. (क) (i) मानव नर में वृषण कहाँ अवस्थित होते हैं और क्यों? वृषणों के दो कार्यों का उल्लेख कीजिए।

(ii) मानव मादा में दो अण्डाशयों में से कोई एक हर माह एक अण्ड का विमोचन करता है। उल्लेख कीजिए कि क्या परिवर्तन होते हैं जब अण्ड का

(1) निषेचन हो जाता है, तथा

(2) निषेचन नहीं होता है।

(iii) नर और मादाओं में गर्भधारण को रोकने के लिए शल्य विधि में क्या किया जाता है?

5

अथवा

(ख) (i) क्या होता है जब :

(1) ब्रायोफिलम की पत्तियाँ मृदा पर गिरती हैं?

(2) प्लेनेरिया कई भागों में कट जाता है?

(3) राइज़ोपस की बीजाणुधानी परिपक्व होने पर बीजांड मुक्त करती हैं?

उपर्युक्त तीनों प्रकरणों में प्रत्येक की जनन विधि का उल्लेख कीजिए।

(ii) निषेचन के पश्चात् पुष्प में होने वाले परिवर्तनों का उल्लेख कीजिए।

5



- (b) Draw the pattern of the magnetic field produced around a vertical current carrying straight conductor passing through a horizontal cardboard. Mark the direction of current and the magnetic field lines. Name and state the rule which is used to determine the direction of magnetic field associated with a current carrying conductor. 3
32. How is ozone formed in the higher levels of the atmosphere ? “Damage to the ozone layer is a cause of concern.” Justify this statement. 3
33. Draw a labelled diagram to show (i) dispersion of a beam of white light, and (ii) formation of a rainbow. 3

SECTION D

34. (a) (i) Where are testes located in the human males and why ? State two function of the testes.
- (ii) In the human female, one of the ovaries releases an egg every month. State the changes that take place if
- (1) the egg is fertilized, and
- (2) the egg is not fertilized.
- (iii) What is done during the surgical method in males and females to prevent pregnancy ? 5

OR

- (b) (i) What happens when :
- (1) Leaves of Bryophyllum fall on the soil ?
- (2) Planaria is cut into many pieces ?
- (3) Sporangia of Rhizopus on maturation liberate spores ?
- Mention the modes of reproduction in each of the above three cases.
- (ii) Write the changes that occur in a flower once the fertilisation has taken place. 5



35. (क) विद्युत शक्ति की परिभाषा लिखिए और इसके SI मात्रक का उल्लेख कीजिए। विद्युत ऊर्जा के व्यावसायिक मात्रक को 'यूनिट' कहते हैं। इस 'यूनिट' और जूल के बीच संबंध लिखिए।

(ख) किसी घर में 50 W शक्ति के दो बल्बों का प्रतिदिन 6 घण्टे उपयोग होता है तथा 1 kW शक्ति के एक विद्युत गीज़र का प्रतिदिन 1 घण्टे के लिए उपयोग होता है। कुल उपभुक्त ऊर्जा परिकलित कीजिए तथा 30 दिन के महीने में ₹ 8.00 प्रति kWh की दर से उपभुक्त कुल ऊर्जा का मूल्य परिकलित कीजिए।

5

36. (क) व्याख्या कीजिए कि कार्बन मुख्य रूप से सहसंयोजी आबन्धों द्वारा ही यौगिक क्यों बनाता है। कार्बन के यौगिकों की अत्यधिक संख्या होने के दो कारणों की संक्षेप में व्याख्या कीजिए। कार्बन अधिकांश अन्य तत्वों के साथ प्रबल आबन्ध क्यों बनाता है ?

5

अथवा

(ख) (i) हाइड्रोकार्बनों की उस शृंखला का नाम और सामान्य सूत्र लिखिए जिसमें हाइड्रोजन के साथ कोई संकलन अभिक्रिया होती है। इस अभिक्रिया के होने की आवश्यक शर्त का उल्लेख करते हुए अभिक्रिया का रासायनिक समीकरण लिखिए और अभिकारक और उत्पाद का नाम भी दीजिए। संयोजक अभिक्रिया प्रतिस्थापन अभिक्रिया से किस प्रकार भिन्न होती है ?

(ii) बेन्ज़ीन की संरचना लिखिए।

5

खण्ड ड

निम्नलिखित प्रश्न स्रोत-आधारित/केस-आधारित प्रश्न हैं। केस को सावधानीपूर्वक पढ़िए और दिए गए प्रश्नों के उत्तर दीजिए।

37. कुछ परिवार चाहे गाँवों के हों अथवा शहरों के हों, में मादा शिशुओं को जन्म देने वाली महिलाएँ उत्पीड़ित की जाती हैं। ऐसे परिवारों के व्यक्ति लड़का अथवा लड़की के जन्म लेने के वैज्ञानिक कारणों को नहीं समझते हैं। वास्तव में जन्म लेने वाले शिशु के लिंग (लड़का अथवा लड़की) के लिए माता उत्तरदायी नहीं होती है। यह आनुवंशिकतः सिद्ध हो गया है कि नवजात शिशु का लिंग निर्धारण इस तथ्य पर निर्भर करता है कि उसे अपने पिता से क्या वंशानुगत हुआ है।



- 35.** (a) Define electric power and state its SI unit. The commercial unit of electrical energy is known as 'unit'. Write the relation between this 'unit' and joule.
- (b) In a house, 2 bulbs of 50 W each are used for 6 hours daily and an electric geyser of 1 kW is used for 1 hour daily. Calculate the total energy consumed in a month of 30 days and its cost at the rate of ₹ 8.00 per kWh. 5

- 36.** (a) Explain why carbon forms compounds mainly by covalent bonds. Explain in brief two main reasons for carbon forming a large number of compounds. Why does carbon form strong bonds with most other elements? 5

OR

- (b) (i) Write the name and general formula of a chain of hydrocarbons in which an addition reaction with hydrogen can take place. Stating the essential condition required for an addition reaction to occur, write the chemical equation giving the name of the reactant and product of such a reaction. How is an addition reaction different from a substitution reaction? 5
- (ii) Write the structure of benzene.

SECTION E

The following questions are source-based/case-based questions. Read the case carefully and answer the questions that follow.

- 37.** In some families, either rural or urban, females are tortured for giving birth to a female child. They do not seem to understand the scientific reason behind the birth of a boy or a girl. In fact the mother is not responsible for the sex of the child and it has been genetically proved that the sex of a newborn is determined by what the child inherits from the father.



- (क) मानवों में किसी नवजात के लिंग निर्धारण के आधार का उल्लेख कीजिए । 1
- (ख) नरों के लिंग गुणसूत्र के जोड़े को परिपूर्ण जोड़ा क्यों नहीं कहते हैं ? 1
- (ग) संतति में गुणसूत्रों की संख्या किस प्रकार जनकों में गुणसूत्रों की मूल संख्या के समान (निश्चित) बनी रहती है ? 2

अथवा

- (ग) दो जीवों का उदाहरण देकर व्याख्या कीजिए कि कुछ जीवों में लिंग निर्धारण आनुवंशिक नहीं होता है । 2

38. बहुत से प्रकाशिक यंत्रों में कई लेंस होते हैं । इन्हें किसी बिम्ब के प्रतिबिम्ब के आवर्धन और उसकी तीक्ष्णता में वृद्धि के लिए संयोजित किया जाता है । सम्पर्क में रखे लेंसों की नेट क्षमता (P) व्यष्टिगत लेंसों की क्षमताओं $P_1, P_2, P_3 \dots$ का बीजगणितीय योग होता है

$$P = P_1 + P_2 + P_3 \dots$$

इसे लेंसों की क्षमताओं की सरल योज्यता कहा जाता है और इस गुण का विस्तृत उपयोग कैमरों, दूरदर्शकों और सूक्ष्मदर्शियों के लेंसों के निकायों की अभिकल्पना में किया जाता है । लेंसों के निकायों में उत्तल लेंस और अवतल लेंस के संयोजन भी हो सकते हैं ।

- (क) +4 D क्षमता के उत्तल लेंस और -2 D क्षमता के अवतल लेंस के संयोजन की क्या प्रकृति (अभिसरित/अपसरित) होती है ? 1
- (ख) उस लेंस की फोकस दूरी परिकल्पित कीजिए जिसकी क्षमता -2.5 D है । 1
- (ग) किसी उत्तल लेंस, जिसकी क्षमता +0.1 D है के प्रकाशिक केन्द्र से 20 cm की दूरी पर स्थित किसी बिम्ब के प्रतिबिम्ब की प्रकृति और स्थिति को दर्शाने के लिए किरण आरेख खींचिए । 2

अथवा

- (ग) किसी उत्तल लेंस द्वारा बना आभासी प्रतिबिम्ब किसी अवतल लेंस द्वारा बने आभासी प्रतिबिम्ब से किस प्रकार भिन्न होता है ? किन शर्तों के अन्तर्गत कोई उत्तल लेंस और कोई अवतल लेंस आभासी प्रतिबिम्ब बनाता है ? 2



- (a) State the basis on which the sex of a newborn baby is determined in humans. 1
- (b) Why is the pair of sex chromosomes called a mismatched pair in males ? 1
- (c) How is the original number of chromosomes present in the parents restored in the progeny ? 2

OR

- (c) Explain by giving two examples of the organisms in which the sex is not genetically determined. 2

38. Many optical instruments consist of a number of lenses. They are combined to increase the magnification and sharpness of the image. The net power (P) of the lenses placed in contact is given by the algebraic sum of the powers of the individual lenses $P_1, P_2, P_3 \dots$ as

$$P = P_1 + P_2 + P_3 \dots$$

This is also termed as the simple additive property of the power of lens, widely used to design lens systems of cameras, microscopes and telescopes. These lens systems can have a combination of convex lenses and also concave lenses.

- (a) What is the nature (convergent / divergent) of the combination of a convex lens of power + 4 D and a concave lens of power – 2 D ? 1
- (b) Calculate the focal length of a lens of power – 2.5 D. 1
- (c) Draw a ray diagram to show the nature and position of an image formed by a convex lens of power + 0.1 D, when an object is placed at a distance of 20 cm from its optical centre. 2

OR

- (c) How is a virtual image formed by a convex lens different from that formed by a concave lens ? Under what conditions do a convex and a concave lens form virtual images ? 2



39. विभिन्न कार्यों के लिए धातुओं की आवश्यकता होती है। धातुओं का निष्कर्षण उनके अयस्कों से किया जाता है। खानों से खोदकर निकाले गए अयस्कों में प्रायः बहुत सी अशुद्धियाँ मिली होती हैं। अयस्कों से धातुओं के निष्कर्षण से पूर्व अयस्कों को सांद्रित करते समय इन अशुद्धियों को दूर किया जाता है। शुद्ध धातुओं के निष्कर्षण में निम्नलिखित चरण सम्मिलित होते हैं :

- (1) अयस्क का सांद्रण
- (2) सांद्रित अयस्क से धातुओं का निष्कर्षण
- (3) धातु का परिष्करण
- (क) मरकरी के एक अयस्क का नाम लिखिए और उल्लेख कीजिए कि यह किस रूप में पाया जाता है। 1
- (ख) जब जिंक कार्बोनेट को वायु की सीमित मात्रा में अत्यधिक गर्म किया जाता है तब उसका क्या होता है ? 1
- (ग) धातु A की Fe_2O_3 के साथ अभिक्रिया अत्यधिक ऊष्माक्षेपी है और इसका उपयोग रेल की पटरियों को जोड़ने में किया जाता है।
 - (I) धातु A को पहचानिए और होने वाली अभिक्रिया का नाम लिखिए।
 - (II) धातु A की Fe_2O_3 से अभिक्रिया का रासायनिक समीकरण लिखिए। 2

अथवा

- (ग) हम सोडियम ऑक्साइड से सोडियम प्राप्त करने के लिए कार्बन का उपयोग नहीं कर सकते हैं। क्यों ? सोडियम क्लोराइड के विद्युत-अपघटनी अपचयन में कैथोड और ऐनोड पर होने वाली अभिक्रियाओं का उल्लेख कीजिए। 2



39. Metals are required for a variety of purposes. For this we need their extraction from their ores. Ores mined from the earth are usually contaminated with many impurities which must be removed prior to the extraction of metals. The extraction of pure metal involves the following steps :

- (1) Concentration of ore
 - (2) Extraction of the metal from the concentrated ore
 - (3) Refining of the metal
- (a) Name an ore of Mercury and state the form in which Mercury is present in it. 1
- (b) What happens to zinc carbonate when it is heated strongly in a limited supply of air ? 1
- (c) The reaction of a metal A with Fe_2O_3 is highly exothermic and is used to join railway tracks.
- (I) Identify the metal A and name the reaction taking place.
 - (II) Write the chemical equation for the reaction of metal A with Fe_2O_3 . 2

OR

- (c) We cannot use carbon to obtain sodium from sodium oxide. Why ? State the reactions taking place at cathode and anode during electrolytic reduction of sodium chloride. 2